

大学院入試問題

名古屋大学大学院理学研究科博士前期課程

理学専攻 物理科学領域

物理学 問題【Ⅰ】【Ⅱ】

2023年8月23日(水) 9時20分～11時20分

受験上の注意

1. この冊子には物理学【Ⅰ】、物理学【Ⅱ】の2題ある。答えは問題別に指定された色の用紙に記入すること。同一問題が2枚にわたる場合も、指定された色の用紙を用いること。
2. 答案用紙は黄、赤を全員に各1枚、それに草案用紙を1枚配布してあるが、答案用紙を変更する場合や、不足した場合は申し出ること。答案用紙の裏面には何も書き込んではいない。
3. 答案用紙最上段の所定欄に必要事項を書き込むこと。ただし、評価欄には何も書き込んではいない。

物理学 [I] (答案用紙：黄)

図1のように、中心が原点 O にある半径 R の軽い円形のリングが鉛直に立てられている。そのリングに沿って質量 m の質点が摩擦なしに自由に動けるとする。図1のように鉛直上向きを z 軸の正の方向にとり、質点のリング上の位置は、 z 軸の負の方向からの角度 θ で指定する。ただし、リングは変形せず、リングの質量は無視できるとし、リングの中心は原点 O から動かないとする。重力加速度の大きさを g とし、 θ の初期値はゼロでないとして、以下の問いに答えよ。

まず、図2のようにこのリングが、 z 軸を回転軸として一定の角速度 ω ($\omega > 0$) で回転しているとき、リング上の質点の動きに注目する。

- 問1. 重力による質点のポテンシャルエネルギー V を θ を用いて表せ。
- 問2. θ を力学変数として、質点の速度の大きさを表せ。
- 問3. θ を力学変数として、この系のラグランジアン L を求め、運動方程式を書き下せ。
- 問4. 角速度 ω がある値 ω_c を超えると、質点は安定な平衡点 $\theta_e \neq 0$ のまわりで小さく振動することができるようになる。 ω_c と θ_e を求めよ。
- 問5. $\omega > \omega_c$ の時、 θ_e からの微小変位を $\delta\theta$ として、微小振動を表す運動方程式を求め、その周期を求めよ。ただし、 $\theta = \theta_e + \delta\theta$ 、 $|\delta\theta| \ll 1$ とせよ。

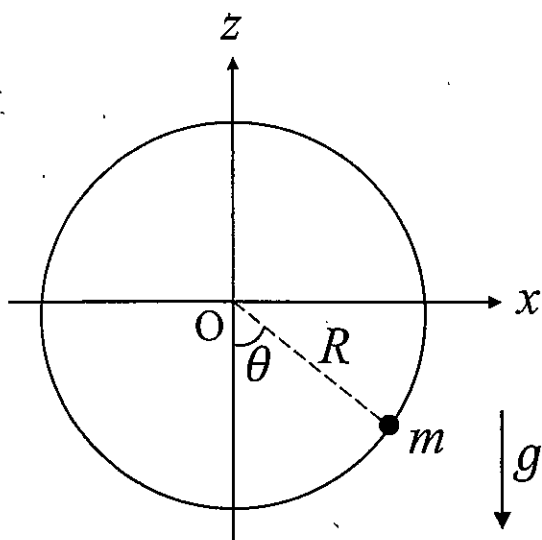


図1

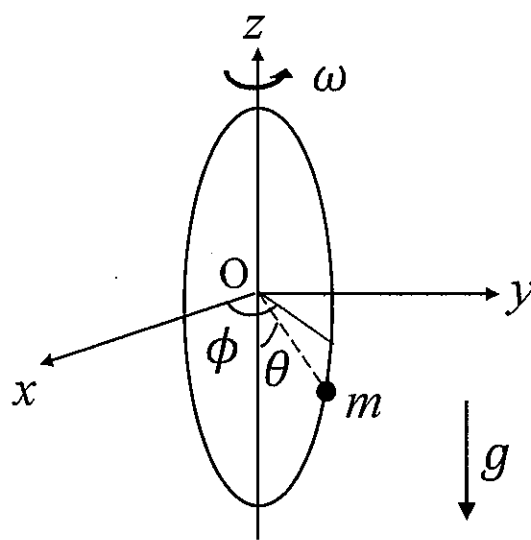


図2

物理学 [I] (答案用紙:黄)

次に、リングが z 軸を回転軸として、一定の角速度ではなく、摩擦なく自由に回転できる状況を考える。図 2 のように z 軸まわりのリングの回転角 ϕ も力学変数とする。初期値として、 $\theta = \theta_0 \neq 0$ 、 $\dot{\theta} = 0$ 、 $\dot{\phi} = \omega_0 \ll \omega_c (\omega_0 > 0)$ とする。ここで、 $\dot{\theta}$ と $\dot{\phi}$ はそれぞれ θ と ϕ の時間微分である。

- 問 6. θ と ϕ を力学変数として、この系のラグランジアンと運動方程式を求めよ。
- 問 7. この系が持つ 2 つの保存量を力学変数を用いて書き下せ。
- 問 8. 質点の運動はどのようになるか、理由とともに記述せよ。特に $\theta = 0$ を通過するかどうかを含めること。

物理学 [II] (答案用紙：赤)

平行導体板とその等価回路に関する以下の問いに答えよ。必要なら次のマクスウェル方程式を参考にせよ。(E は電場, B は磁束密度, ϵ_0 は真空の誘電率, μ_0 は真空の透磁率, ρ は電荷密度, j は電流密度)。

$$\begin{aligned} \nabla \cdot \mathbf{E} &= \frac{\rho}{\epsilon_0}, & \nabla \times \mathbf{E} &= -\frac{\partial \mathbf{B}}{\partial t} \\ \nabla \cdot \mathbf{B} &= 0, & \nabla \times \mathbf{B} &= \mu_0 \mathbf{j} + \epsilon_0 \mu_0 \frac{\partial \mathbf{E}}{\partial t} \end{aligned}$$

問1 真空中に、厚さの無視できる幅 a の導体板2枚を、 z 方向に間隔 b だけ離して xy 平面に平行に固定して配置する (図1)。 x 方向の長さ、および y 方向の幅 a は、間隔 b に比べて十分長いものとする。平行導体板の端における電磁場の乱れ、および平行導体板の周囲の電磁場による影響は無視して考える。

2つの導体板に等量の正負の電荷を一様に分布させる。図1(a)のように、この平行導体板において x 方向の長さ Δx の領域を考える。この領域における上の導体板の電気量を $+q$ 、下の導体板の電気量を $-q$ とする ($q > 0$)。

(1-1) 導体板間に形成される電場 E の向き及び大きさを求めよ。

(1-2) この平行導体板の長さ Δx あたりの静電容量を求めよ。

次に、図1(b)のように、上の導体板に $+x$ 方向、下の導体板に $-x$ 方向の、大きさ I ($I > 0$) の直流電流を流す。導体板の抵抗による電圧降下は無視できるとし、導体板上の電流密度は y に依存せず一様であるとする。このとき、2つの導体板間には一様な磁束密度 B が形成される。

(1-3) 磁束密度 B の向き及び大きさを求めよ。

(1-4) 次に、電流 I を時間変化させる。このときに、長さ Δx あたりの誘導起電力を答えよ。また、平行導体板の長さ Δx あたりの自己インダクタンスを答えよ。ただし、変位電流は無視してよい。

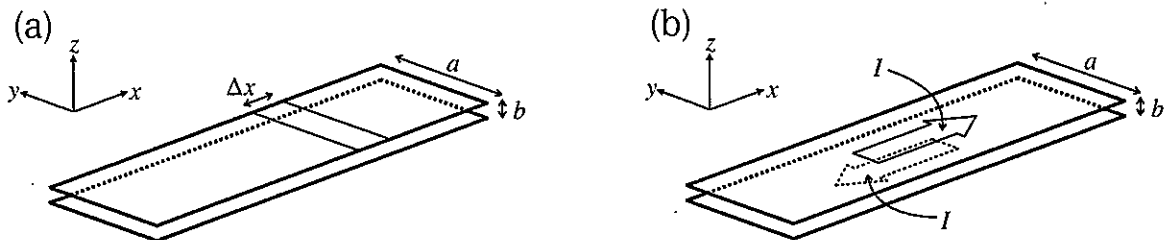


図1

物理学 [II] (答案用紙: 赤)

問2 図1の平行導体板の電気的特性を表現するための等価回路であるLC回路網を考える(図2).
 すべてのコンデンサーとコイルは、それぞれ同じ値の静電容量 C と自己インダクタンス L を持つものとする. 図2のように、 q_n は n 番目のコンデンサーの電気量、 V_n は対応する場所における電位、 I_n は対応する閉回路を流れる電流である.

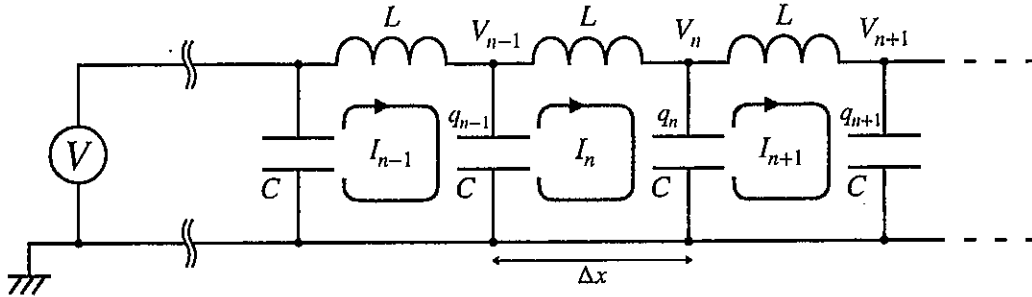


図 2

- (2-1) V_n と q_n の関係を答えよ. また、電荷保存に基づいて I_n, I_{n+1} と $\frac{dq_n}{dt}$ の関係を答えよ.
 (2-2) 電位のつりあいから、 V_n, V_{n-1} と $\frac{dI_n}{dt}$ の関係を答えよ.
 (2-3) (2-1), (2-2) で得た方程式から、電流に対する次の方程式を導け:

$$LC \frac{d^2 I_n}{dt^2} = I_{n+1} - 2I_n + I_{n-1} \quad (1)$$

- (2-4) 式(1)の解の形を $I_n(t) = e^{-i\omega t} A^n I_0$ (ω は角振動数、 I_0 は定数、 i は虚数単位) と仮定する. $LC\omega^2 < 1$ の場合、 A を求めよ.
 (2-5) $LC\omega^2 \ll 1$ の場合、 $A \approx e^{\pm i\sqrt{LC}\omega}$ と近似できる. この A を用いると、空間座標 $x_n = n\Delta x$ (Δx は1つの閉回路あたりの長さ) を導入することで、 $I_n(t)$ は、角振動数 ω 、波数 k の進行波の形を持つ:

$$I_n(t) = I_0 e^{-i\omega t \pm ikx_n}, \quad k \text{ は定数}$$

この波の波数 k 及び位相速度 v_p を $L, C, \Delta x, \omega$ のうち必要なものを用いて表せ.

- (2-6) (1-2) と (1-4) で求めた平行導体板の長さ Δx あたりの静電容量と自己インダクタンスの表式を用いて、波の位相速度 v_p を与えよ. また、その値を有効数字2桁で答えよ.

大学院入試問題

名古屋大学大学院理学研究科博士前期課程

理学専攻 物理科学領域

物理学 問題【Ⅲ】【Ⅳ】

2023年8月23日(水) 13時00分～15時00分

受験上の注意

1. この冊子には物理学【Ⅲ】、物理学【Ⅳ】の2題ある。答えは問題別に指定された色の用紙に記入すること。同一問題が2枚にわたる場合も、指定された色の用紙を用いること。
2. 答案用紙は青、緑を全員に各1枚、それに草案用紙を1枚配布してあるが、答案用紙を変更する場合や、不足した場合は申し出ること。答案用紙の裏面には何も書き込んではいない。
3. 答案用紙最上段の所定欄に必要事項を書き込むこと。ただし、評価欄には何も書き込んではいない。

物理学 [III] (答案用紙：青)

体積 V の金属中の電子を、質量 m 、スピン $\frac{1}{2}$ 、温度 T の理想フェルミ気体として扱う。電子の数密度 n を $n = \frac{N}{V}$ (ただし、 N は電子数の期待値である)とし、化学ポテンシャルを μ とする。また、ボルツマン定数を k_B とし、 $\beta = \frac{1}{k_B T}$ と表記する。以下の問いに答えなさい。

問1. 1電子のエネルギー準位が、 $\varepsilon_i (i = 0, 1, 2, 3, \dots)$ と表記される場合、系の大分配関数 Ξ は各エネルギー準位ごとの大分配関数 Ξ_i の積の形で、 $\Xi = \prod_{i=0}^{\infty} \Xi_i$ と表記できる。 Ξ_i をその準位のエネルギー ε_i を用いて書きなさい。

問2. エネルギー準位 ε_i を占有する電子数の平均値 $\langle N_i \rangle$ を求めなさい。

以降、絶対零度($T = 0$ K)の場合を考える。

問3. フェルミ波数 k_F と N との関係を求めなさい。

問4. 系の運動エネルギー E_{kin} を求めると、

$$E_{kin} = \frac{\hbar^2}{2m} [\textcircled{1}](k_F)^{[\textcircled{2}]}$$

の形になる。ここで、 \hbar はプランク定数 h を 2π で割ったものであり、 $[\textcircled{2}]$ は k_F のべき乗の指数である。 $[\textcircled{1}]$ 、 $[\textcircled{2}]$ にあてはまる適切な数値または表式を求めなさい。

次に、電子間の相互作用を考慮し、上向きスピンと下向きスピンの電子数をそれぞれ N_{\uparrow} 、 N_{\downarrow} とする。このとき、電子間相互作用のエネルギー E_{int} は $E_{int} = \frac{\alpha N_{\uparrow} N_{\downarrow}}{V}$ で近似的に表される。 α は正の定数である。上向きと下向きスピンの電子数密度は、それぞれ $n_{\uparrow} = \frac{N_{\uparrow}}{V} = \frac{n}{2} + \Delta$ 、 $n_{\downarrow} = \frac{N_{\downarrow}}{V} = \frac{n}{2} - \Delta$ であるとす。次の問いに答えなさい。

問5. 磁化 M を、 n_{\uparrow} 、 n_{\downarrow} および、ボーア磁子 μ_B を用いて書きなさい。

問6. 上向きスピンの電子のフェルミ波数を $k_{F\uparrow}$ とする。 n_{\uparrow} を用いて $k_{F\uparrow}$ を表しなさい。

物理学 [III] (答案用紙：青)

問7. 電子間相互作用を入れると, 系の運動エネルギーは E_{kin} から E'_{kin} へと変化する. E'_{kin} を Δ に関する4次の項までで計算すると, 以下の式で表される.

$$E'_{kin} \cong E_{kin} + \frac{\hbar^2}{2m} [\textcircled{3}] \Delta^{[\textcircled{4}]} + C\Delta^4$$

ここで, C は正の定数である. [$\textcircled{3}$], [$\textcircled{4}$] に入る適切な数値または表式を求めなさい.

問8. 絶対零度において自発磁化が生じるかどうかは α の大きさに依存する. 系全体のエネルギー E_{total} は E'_{kin} と E_{int} の和になることを考慮し, 自発磁化が生じる α の臨界値 α_c を求めなさい.

問9. 縦軸を E_{total} , 横軸を Δ にとったグラフの概形を $\alpha > \alpha_c$ および $\alpha < \alpha_c$ のそれぞれの条件に関して描きなさい. ただし, α_c は自発磁化が生じる α の臨界値である. また, 自発磁化が生じた時の Δ の位置をグラフ中に矢印で示しなさい.

物理学 [IV] (答案用紙：緑)

エネルギー E , 質量 m の粒子の 1 次元運動を量子力学で考える。1 次元の座標を x とし, ポテンシャルは

$$V(x) = -V_0\delta(x) \quad (1)$$

で与えられるとする。ここで $\delta(x)$ はディラックのデルタ関数であり, 定数 V_0 は正の実数 ($V_0 > 0$) とする。ハミルトニアン H は

$$H = -\frac{\hbar^2}{2m} \frac{d^2}{dx^2} + V(x) \quad (2)$$

で与えられる。ここで $\hbar = \frac{h}{2\pi}$ で h はプランク定数である。図 1 のように $x < 0$ の領域を領域 I と呼び, $x > 0$ の領域を領域 II と呼ぶことにする。




図 1

(次ページにつづく)

物理学 [IV] (答案用紙：緑)

以下の問に答えよ。

問 1. $E > 0$ のときの粒子の運動を考える。

問 1-1 次の文を読み以下の問 (a)~(c) に答えよ。

領域 I における波動関数 $u_I(x)$ は、時間に依存しないシュレーディンガー方程式の一般解として

$$\boxed{\text{ア}} \tag{3}$$

で表される。ここで i は虚数単位、 A_I と B_I は複素定数であり、正の実数 α は $\alpha = \boxed{\text{イ}}$ である。

領域 II における波動関数 $u_{II}(x)$ は、時間に依存しないシュレーディンガー方程式の一般解として

$$\boxed{\text{ウ}} \tag{4}$$

で表される。ここで A_{II} と B_{II} は複素定数であり、正の実数 α は $\boxed{\text{イ}}$ で与えられる。

(a) 式 (3) の $\boxed{\text{ア}}$ にあてはまる式として、適切なものを下記の [1] と [2] から選べ。

$$[1] u_I(x) = A_I e^{i\alpha x} + B_I e^{-i\alpha x}$$

$$[2] u_I(x) = A_I e^{\alpha x} + B_I e^{-\alpha x}$$

(b) 空欄 $\boxed{\text{イ}}$ にあてはまる表式を E , m , \hbar を使って表せ。

(c) 式 (4) の $\boxed{\text{ウ}}$ にあてはまる式として、適切なものを下記の [1] と [2] から選べ。

$$[1] u_{II}(x) = A_{II} e^{i\alpha x} + B_{II} e^{-i\alpha x}$$

$$[2] u_{II}(x) = A_{II} e^{\alpha x} + B_{II} e^{-\alpha x}$$

問 1-2 $x = 0$ での波動関数の接続条件を考える。領域 I と領域 II で求めたそれぞれの波動関数 $u_I(x)$ と $u_{II}(x)$ は $x = 0$ で連続であり、

$$u_I(x = -\epsilon) = u_{II}(x = +\epsilon) = u(0) \tag{5}$$

が成り立つ。ここで ϵ は正の無限小量であり、 $x = 0$ での波動関数を $u(0)$ とした。また $x = 0$ での波動関数の 1 階微分は不連続となり、

$$\left. \frac{du_{II}(x)}{dx} \right|_{x=+\epsilon} - \left. \frac{du_I(x)}{dx} \right|_{x=-\epsilon} = -\lambda u(0) \tag{6}$$

が成り立つ。ここで $\lambda = \frac{2mV_0}{\hbar^2}$ である。この式 (6) を、式 (2) のハミルトニアン H を用いたシュレーディンガー方程式から導け。

物理学 [IV] (答案用紙：緑)

問 1-3 領域 I と領域 II で、 x の正方向への確率の流れの密度をそれぞれ

$$j_I(x) = \frac{\hbar}{2im} \left[u_I^*(x) \frac{du_I(x)}{dx} - \frac{du_I^*(x)}{dx} u_I(x) \right], \quad j_{II}(x) = \frac{\hbar}{2im} \left[u_{II}^*(x) \frac{du_{II}(x)}{dx} - \frac{du_{II}^*(x)}{dx} u_{II}(x) \right]$$

で与える。ここで $u_I^*(x)$, $u_{II}^*(x)$ はそれぞれ $u_I(x)$, $u_{II}(x)$ の複素共役を表す。式 (3), (4) の複素定数 A_I , A_{II} , B_I , B_{II} , および $v = \frac{\hbar\alpha}{m}$ の中から適切なものを使って、領域 I および領域 II の確率の流れの密度 $j_I(x)$, $j_{II}(x)$ を表せ。

問 1-4 図 2 のように領域 II から x の負の方向に向かって粒子が入射する場合を考える。ただし、領域 I から x の正の方向に向かって入射する粒子はない。この状態を表すために必要な条件は である。

空欄 にあてはまる式として適切なものを下記の [1] から [4] の中から 1 つ選べ。

- [1] $A_I = 0$, [2] $B_I = 0$, [3] $A_{II} = 0$, [4] $B_{II} = 0$

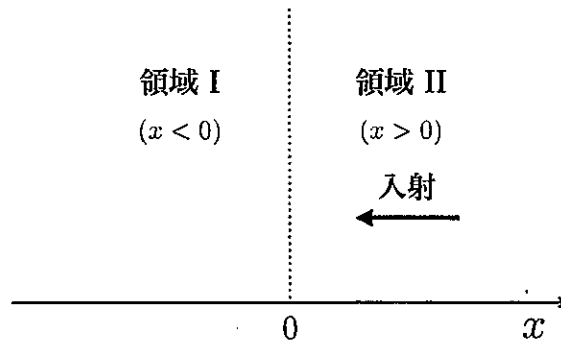


図 2

問 1-5 問 1-2 の式 (5) と (6), および問 1-4 で求めた条件を考慮して、透過率と反射率を α と λ を使って表せ。

(次ページにつづく)

物理学 [IV] (答案用紙：緑)

問 2. 次に $E < 0$ のときの粒子の状態を考える。

問 2-1 次の文を読み以下の問 (a)~(c) に答えよ。

$x \rightarrow -\infty$ で時間に依存しないシュレーディンガー方程式の解は発散しないことを考慮すると、領域 I における波動関数 $u_I(x)$ は、時間に依存しないシュレーディンガー方程式の解として

$$\boxed{\text{オ}} \tag{7}$$

で与えられる。ここで C_I は複素定数であり、正の実数 β は $\beta = \boxed{\text{カ}}$ である。

また $x \rightarrow +\infty$ で時間に依存しないシュレーディンガー方程式の解は発散しないことを考慮すると、領域 II における波動関数 $u_{II}(x)$ は、時間に依存しないシュレーディンガー方程式の解として

$$\boxed{\text{キ}} \tag{8}$$

で与えられる。ここで C_{II} は複素定数であり、正の実数 β は $\boxed{\text{カ}}$ で与えられる。

(a) 式 (7) の $\boxed{\text{オ}}$ にあてはまる式として、適切なものを下記の [1] から [4] の中から 1 つ選べ。

$$[1] u_I(x) = C_I e^{i\beta x}, [2] u_I(x) = C_I e^{-i\beta x}, [3] u_I(x) = C_I e^{\beta x}, [4] u_I(x) = C_I e^{-\beta x}$$

(b) 空欄 $\boxed{\text{カ}}$ にあてはまる表式を E, m, \hbar を使って表せ。

(c) 式 (8) の $\boxed{\text{キ}}$ にあてはまる式として、適切なものを下記の [1] から [4] の中から 1 つ選べ。

$$[1] u_{II}(x) = C_{II} e^{i\beta x}, [2] u_{II}(x) = C_{II} e^{-i\beta x}, [3] u_{II}(x) = C_{II} e^{\beta x}, [4] u_{II}(x) = C_{II} e^{-\beta x}$$

問 2-2 $E < 0$ のときでも $x = 0$ での波動関数の接続条件として式 (5) と (6) が成り立つ。その接続条件を使ってエネルギー E を V_0, \hbar, m を使って表せ。

問 2-3 問 2-2 のエネルギー E に対応する波動関数の絶対値の 2 乗の概形を x の関数として描け。